



جمهورية مصر العربية
وزارة التربية والتعليم
قطاع الكتب

وطنى حياى

الدراسات الاجتماعية

جغرافية العالم و تاريخ مصر الحديث

Osama
ghobashy

الصف الثالث الإعدادى

الفصل الدراسى الأول





ثانياً : التدريبات

السؤال الأول : اختر الإجابة الصحيحة مما بين الأقواس:

- ١- تعد قارة أكبر قارات العالم من حيث المساحة .
(افريقيا - أوروبا - آسيا - استراليا)
- ٢- يعد أكبر البحار المغلقة في العالم.
(البحر الأحمر - البحر المتوسط - بحر قزوين - البحر الأسود)
- ٣- تفصل جبال..... قارة أوروبا عن قارة آسيا
(اورال - الهمالايا - البرانس - الألب)
- ٤- يعتبر المحيط أكبر محيطات العالم مساحة (الهندي - الهادي - الأطلنطي - القطبي الشمالي)
- ٥- تمر الدائرة القطبية الشمالية بكل من قارة آسيا وأمريكا الشمالية و.....
(أنتاركتيكا - استراليا - أمريكا الجنوبية - أوروبا)

السؤال الثاني :

اكتب كلمة (صح) أمام العبارات الصحيحة وكلمة (خطأ) أمام العبارات غير الصحيحة مع تصويب الخطأ:

- ١- يوجد بقارة آسيا أكبر بحر داخلي مغلق في العالم. (صواب)
- ٢- يحد قارة إفريقيا من الغرب المحيط الهندي . (خطأ)
- ٣- يفصل قارة استراليا عن جزر أندونيسيا في الشمال بحر آرال. (خطأ)

السؤال الثالث :

ما النتائج المترتبة على ...؟

- ١- كثرة تعاريج السواحل في قارة أوروبا . **أدى إلى انشاء الموانئ الطبيعية على السواحل**
- ٢- وقوع قارة أنتاركتيكا اقصى جنوب الكرة الأرضية. **اصبحت قارة متجمدة غير مأهولة بالسكان**

السؤال الرابع : قارن بين كل قارات العالم المأهولة بالسكان من حيث الموقع الفلكي .

اسم القارة	قارة آسيا	قارة أفريقيا	قارة أوروبا	قارة أمريكا الشمالية	قارة أمريكا الجنوبية	قارة أستراليا
دوائر العرض	٨١ شمالاً ١٠ جنوباً	٣٧,٣٠ شمالاً ٣٤,٣٠ جنوباً	٣٦ شمالاً ٧١ شمالاً	٧,٣٠ شمالاً ٨٣ شمالاً	١٢ شمالاً ٥٦ جنوباً	١٠ جنوباً ٤٤ جنوباً
خطوط الطول	٢٦ شرقاً ١٧٠ غرباً	٥١ شرقاً ١٧ غرباً	٦٦ شرقاً ٢٥ غرباً	١٠ غرباً ١٦٨ غرباً	٣٥ غرباً ٨١ غرباً	١١٣ شرقاً ١٧٨ شرقاً



ثانياً : التدريبات السؤال الأول

اكتب كلمة (صح) أمام العبارات الصحيحة وكلمة (خطأ) أمام العبارات غير الصحيحة مع تصويب الخطأ:

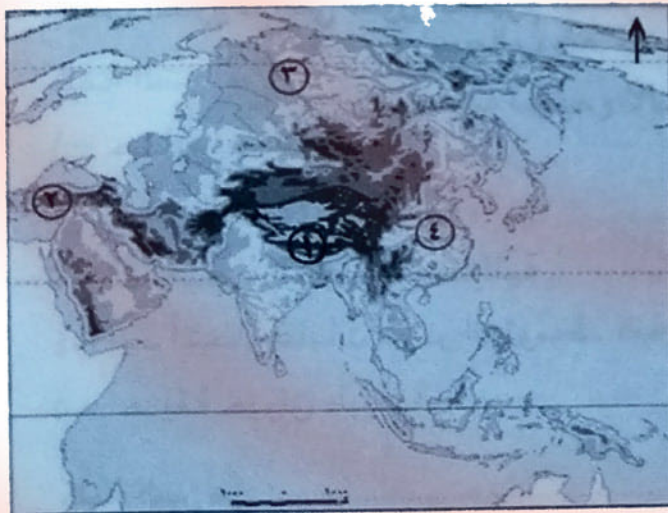
- أ - من جبال إفريقيا جبال أطلس وجبال البحر الأحمر وجبل كلمنجارو. (صواب)
- ب - تمتد السلاسل الجبلية بقارة أوروبا باتجاه عام من الشرق إلى الغرب **من الغرب إلى الشرق** (خطأ)
- ج - تجرى أنهار أوب وينسى ولينا في سهول آسيا الشمالية. (صواب)
- د - توجد في شرق قارة أمريكا الشمالية سلاسل جبال روكي. (خطأ)
- هـ - تمتد سلاسل جبال الإنديز من الشمال حتى الأطراف الجنوبية لقارة أمريكا الشمالية. (خطأ)
- و - توجد في قارة استراليا سهول متسعة تجرى بها أودية نهرية أهمها نهر مري ودارلنج. (صواب)

السؤال الثاني : بم تفسر...؟

- أ - إنشاء الموانئ بالسهول الساحلية في قارة أوربا . بسبب اتساع سواحل أوروبا وتعرجها
- ب - تتميز السهول الساحلية بقارة إفريقيا بشكل عام بالضيق . لاقترب حافات الجبال والهضاب من الساحل
- ج - تعرف هضبة التبت بسقف العالم . بسبب ارتفاعها عن قمم الجبال
- د - فقدان أنهار أوب وينسى ولينا أهميتها الاقتصادية في فصل الشتاء . لأنها تتجمد في فصل الشتاء

السؤال الثالث :

أمامك خريطة صماء لقارة آسيا تم أكتب مدلول الأرقام التالية :



١ - جبال الهيمالايا

٢ - هضبة الاناضول

٣ - نهر ينسى

٤ - سهل شرق الصين في الصين

السؤال الرابع : قارن بين :

- أ - السهول الفيضية في كل من قارتي آسيا وإفريقيا
- ب - الجبال في كل من أمريكا الشمالية وأمريكا الجنوبية

السهول الفيضية في أمريكا الشمالية	السهول الفيضية في آسيا	الجبال في أمريكا الجنوبية	الجبال في أمريكا الشمالية
سهول نهر المسيسيبي	سهول شمالية - تجرى في سيبيريا الكبرى	سلاسل جبال الأنديز	سلاسل جبال روكي
سهول نهر المسيسيبي	سهول نهر الأوب وينس ولينا	سهول شرق الصين	سهول شرق الصين
سهول نهر الكونغو	سهول جنوبية - سهول نهرى جبال	سهول شرق الصين	سهول شرق الصين
	والغرات - سهول نهر الهند	سهول شرق الصين	سهول شرق الصين



ثالثاً : التدريبات السؤال الأول :

اكتب كلمة (صح) أمام العبارات الصحيحة وكلمة (خطأ) أمام العبارات غير الصحيحة مع تصويب الخطأ:

- ١- يقع المناخ الصيني غرب القارات بين دائرتي عرض ٣٠-٤٥ شمال وجنوب دائرة الإستواء .
- ٢- من العوامل المؤثرة في مناخ القارات الموقع الفلكي والتضاريس .
- ٣- تنفض الغابات المخروطية اوراقها في فصل الشتاء .
- ٤- تتميز سواحل دول المغرب العربي والجبل الأخضر في ليبيا بمناخ البحر المتوسط
- ٥- تنمو حشائش الاستبس في الإقليم المدارى الحار .

خطأ شرق القارات
صواب
خطا الغابات النفضية

صواب
خطأ السافانا

السؤال الثاني : بم تفسر ...؟
لانها تقع بين دائرتي عرض صفر - ١٠ شمال وجنوب دائرة الاستواء

- ١- يتميز حوض الأمازون بارتفاع درجة الحرارة طوال العالم وسقوط المطر
 - ٢- تنمو الأشجار الموسمية في شبه جزيرة الهند الصينية جنوب الصين .
 - ٢- تدرج حشائش السافانا في القصر كلما اتجهنا شمالاً وجنوباً من دائرة الاستواء
 - ٢- امتداد جميع الأقاليم المناخية في قارة آسيا
- بسبب تدرج كمية الامطار كلما ابتعدنا عن دائرة الاستواء**
لانساع مساحتها وامتدادها في حوالى ٩٢ درجة عرضية



السؤال الثالث : قارن بين

- ١- إقليم مناخ غرب اوربا وإقليم مناخ البحر المتوسط
 - ٢- إقليم المناخ المدارى الحار وإقليم المناخ الموسمى .
- من حيث مناطق التوزيع والخصائص المناخية والنباتية.

إقليم البحر المتوسط	إقليم غرب أوربا
ميدسيرا دائري عرض	ميدسيرا دائري عرض
٤٥ ٣٠ شمالاً وجنوباً	٦٠ ١٤٥ شمالاً وجنوباً
مغرب معظم القارات	القارات في أوروبا
أسيا سواحل كم وكندا	وأمرطاً الشمالية في
أفريقيا دول المغرب العربي	السيالي العربي
أوروبا سواحلها	في أمرطاً الجنوبية
على البحر المتوسط	جنوبها العربي
أمرطاً الشمالية وكلاهما	داهي صيفاً بارد شتاء
كالبحر المتوسط	الامطار طول العام
الجنوبيات تهاطل	مردار شتاء
شمالها	
جنوبها العربي	
حارها صيفاً	غابات نفضية
دائم مطر شتاء	أهم أشجارها الكرام
غاباتها الجبلية	
الريفيون	
حشائش الاستبس	

يقع في اسيا في الهند وشبه جزيرة الهند الصينية (جنوب الصين) واستراليا يقع في اقصى شمال القارة وافريقيا في هضبة أيوبيا وجزيرة مدغشقر

حرارة مرتفعة صيفا
**** امطار غزيرة صيفا**
ويسود الجفاف شتاء
غابات موسمية من
أهم اشجارها جوز
الهند ** حشائش
السافانا

يمند بين دائرتي عرض ١٠ / ١٨ شمالاً وجنوباً في جنوب غرب اسيا كما في جزر اندونيسيا شمال وجنوب الاقليم الاستوائي في كل من افريقيا وامريكا الجنوبية ، كما يوجد في بعض الاجزاء الجنوبية في قارة امريكا الشمالية ،

وشمال استراليا حرارة مرتفعة صيفا * امطار تسقط صيفا ويسود الجفاف شتاء
اشجار أقل كثافة وتشابكا من اشجار الغابات الاستوائية * حشائش السافانا

تدريبات عامة على الوحدة الأولى

السؤال الأول :

صوب ما تحته خط:

١- تشغل **الماء** **اليابس** ٧٠,٧٪ من مساحة الكرة الأرضية ، بينما تشغل **المحيطات والبحار** **اليابس** ٢٩,٣

٢- تطل قارة أمريكا الجنوبية على المحيط **الهادي** من الشرق ، والبحر الكاريبي من **الغرب** . **الشمال**

٣- من أهم السلاسل الجبلية فى أوربا سلاسل جبال **الألب** **الأورال** التى تمتد من الغرب إلى الشرق فى وسط القارة.

٤- تمتد السهول الفيضية فى أوربا من المحيط **الهادي** غربا حتى جبال الأورال فى الشرق. **الاطلنطى**

٥- من جبال قارة آسيا جبال **الألب** والهمالايا. **اليابان / طوروس / زاغروس**

٦- من أهم هضاب قارة أمريكا الشمالية هضبة **جيتا**. **برادور**

٧- يتميز إقليم المناخ **الاستوائي** بغزارة أمطاره صيفا بينما يسود الجفاف شتاء. **الموسمى**

٨- تنمو أشجار الصنوبر فى إقليم الغابات **الاستوائية**. **المخروطية**



السؤال الثانى :

أمامك خريطة صماء لقارة أوربا ، اكتب مدلول

الأرقام الموقعة عليها :

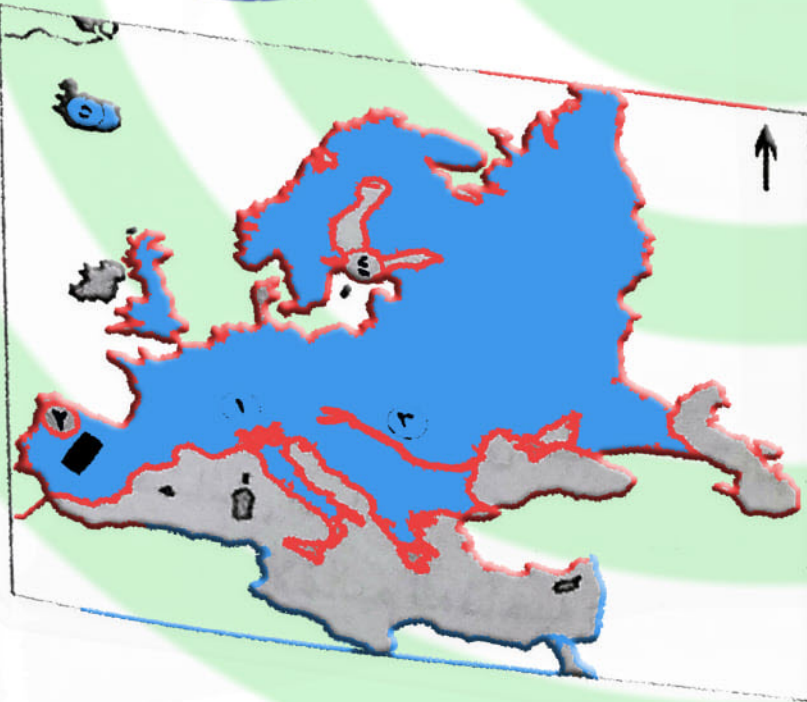
١- جبال **الألب**

٢- هضبة **الميزيتا**

٣- نهر **الدانوب**

٤- بحر **الباطى**

٥- جزيرة **ايسلندا**



السؤال الثالث :

بم تفسر .. ؟ **كثرة تعرج السواحل في اوربا وكثرة الجزر**

١- قيام الموانئ الطبيعية على سواحل أوربا.

- ٢- تعدد خصائص السهول الفيضية بأمريكا الشمالية **توسع في السهول الوسطى /تمتد من المحيط القطبي شمالا الى خليج المكسيك جنوبا**
- ٣- السافانا حديقة حيوان طبيعية. **يوجد بها حيوانات آكلة العشب مثل الفيلة والزراف وحيوانات آكلة اللحوم مثل الاسود والتمور والضباع**
- ٤- تتنوع الحياة النباتية في إقليم المناخ الجبلي. **تبعاً لارتفاع السطح واختلاف كمية المطر**
- ٥- قلة أهمية انهار شمال اسيا شتاءً. **حيث تتجمد في فصل الشتاء**
- ٦- ضيق السهول الساحلية في غرب أمريكا الجنوبية. **بسبب اقتراب جبال الانديز من ساحل المحيط الهادي**



السؤال الرابع :

أمامك خريطة صماء لقارة أمريكا الشمالية ، حدد عليها :

أ- الموقع الجغرافى للقارة

ب- أهم الأقاليم المناخية المتواجدة بالقارة

السؤال الخامس زيادة نسبة تلوث البيئة وارتفاع

ماذا يحدث إذا ...؟ **درجة الحرارة**

أزيلت جميع الغابات من العالم .

السؤال السادس :

ما المقصود بالمفاهيم الجغرافية التالية:

- دولة جزرية - موقع فلكى - إقليم مناخى - حوض النهر

- **دولة جزرية** : هى الدول التى تتكون من جزيرة او اكثر وقد تكون جزء من جزيرة

- **موقع فلكى** : موقع المكان بالنسبة لخطوط الطول ودوائر العرض

- **إقليم مناخى** : منطقة محددة من سطح الأرض لها خصائص مناخية معينة مثل الحرارة

والرياح والامطار وغيرها .

حوض النهر : الاراضى التى يجرى فيها النهر وروافده او تنحدر مياهها إليه



نشاط (٣) سجل رأيك

اقرأ وسجل رأيك في كل عبارة مما يلي :
(أ) بعض السلالات تعتبر نفسها أكثر ذكاء وقدرة على العمل .



ثانياً : التدريبات السؤال الأول :

اختر الأجوبة الصحيحة مما بين الأقواس:

- ١- تتميز السلالة..... بالبشرة الداكنة والأنف العريض والشعر الأجدد.
(القوقازية - الزنجية - الهندية - المغولية)
- ٢- تتركز السلالة المغولية في قارة.....
(أفريقيا - آسيا - أوروبا - استراليا)
- ٣- تشمل السلالة..... نصف سكان العالم وتنتشر في قارات العالم المختلفة مثل قارة أوروبا
(القوقازية - الزنجية - الهندية - المغولية)

السؤال الثاني : دلل على صحة العبارة التالية :

لا يوجد في العالم الآن ما يعرف بالسلالة النقية
بسبب انصهار السلالات واختلاط الصفات الطبيعية التي تميز كل سلالة عن الأخرى
السؤال الثالث :

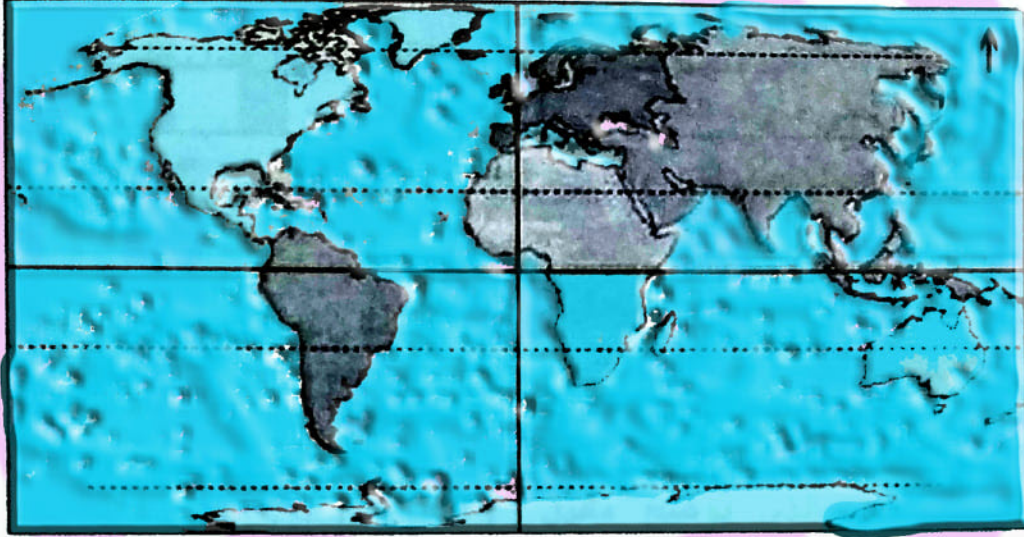
اكتب كلمة (صح) أمام العبارات الصحيحة وكلمة (خطأ) أمام العبارات غير الصحيحة مع تصويب الخطأ:

- ١- يبلغ نسبة الزنوج ٥٢% من سكان العالم .
(خطأ) ١٠%
- ٢- من أقسام السلالة الزنجية الزنوج السودانيون والبانطو والنيليون الحاميون.
(صواب)
- ٣- تشمل السلالة القوقازية نصف سكان العالم ويعد سكان غرب و وسط أوروبا من السلالة القوقازية.
(صواب)
- ٤- تنتمي جماعة التنجوس في سيبيريا إلى السلالة الزنجية.
(خطأ) المغولية



نشاط (٤) فكر وأجب

أمامك خريطة صماء للعالم حدد عليها ما يلي :



أ- منطقة واحدة بكل قارة تعد من أكثر المناطق تركزا للسكان بالاراة .

ب- موقع المناطق التي تقع على الخريطة السابقة ، وفي أى منها تقع أن يتركز السكان ؟
ولماذا ؟ سهول حوض الأمازون - سهول الأرجنتين - غرب أستراليا .

ثانياً - التدريبات

السؤال الأول : اختر الإجابة الصحيحة مما بين الأقواس :

١- يبلغ عدد سكان..... طبقا لتقديرات ٢٠١٤ م حوالي ٧,٢ مليار نسمة .

(إفريقيا - آسيا - أوروبا - العالم)

٢- يتركز سكان أمريكا الجنوبية حول سهول نهر

(المسيبى - النيل - الأورينوكو - نيجر)

٣- تعد دولة .. من أكثر دول آسيا سكاناً

(السعودية - الصين - أندونيسيا - الهند)



السؤال الثاني : بم تفسر؟

١- اختلاف عدد السكان من قارة لأخرى فى العالم .

تبعاً لاختلاف العوامل المؤثرة فى توزيع السكان مثل السهول الفيضية - المناخ المعتدل - ومدى توافر فرص العمل والاجور

٢- قلة عدد السكان فى سيبيريا وألاسكا .

بسبب برودة الجو

٣- قلة عدد السكان فى المناطق الاستوائية بإفريقيا وأمريكا الجنوبية.

بسبب انتشار الغابات الاستوائية الكثيفة حيث البيئة الطبيعية القاسية وانتشار الامراض

٤- تركيز السكان فى مونتريال بكندا .

وجود المدن الكبرى ووفرة فرص العمل

٥- تركيز معظم سكان العالم فى المدن الكبرى .

بسبب وفرة فرص العمل - وفرة الخدمات والمناطق الصناعية

السؤال الثالث : ما النتائج المترتبة على ...؟

١- زيادة عدد السكان فى معظم دول آسيا .

نقص الغذاء - قلة نصيب الفرد من الدخل القومى - انخفاض مستوى المعيشة - وجود هجرات

غير شرعية تتجه معظمها الى الدول المتقدمة مثل دول أوروبا

٢- التقدم الصناعى فى أوروبا.

أدى الى تركيز السكان فى المدن الكبرى

السؤال الرابع : صوب ما تحته خط :

١- يقل السكان فى المناطق الصحراوية ، مثل منطقة الصحراء الكبرى فى قارة آسيا أفريقيا

٢- تعد قارة أوروبا أكبر قارات العالم سكاناً .

٣- تعد دولتا السودان و اليابان أكبر دولتين فى العالم من حيث عدد السكان . الصين و الهند

٤- من أكبر دول قارة أمريكا الجنوبية سكاناً دولة شيلي .

٥- تعد قارة أمريكا الجنوبية أقل قارات العالم سكاناً .

البرازيل

أستراليا



ثانياً: التدريبات

السؤال الأول: صوب ماتحته خط :

- ١- تتميز قارة أوربا بمعدل مواليد مرتفع أحرصاً
- ٢- تتميز قارة أستراليا بمعدل وفيات مرتفع أوربا
- ٣- دولة ذات رعاية طبية مرتفعة كينيا مصر
- ٤- تتميز دولة الصومال بارتفاع نصيب الفرد من الدخل القومي دول الخليج

السؤال الثاني: بم تفسر.....؟

- ١- ارتفاع معدلات المواليد في قارة إفريقيا.....
- ٢- ارتفاع معدل الوفيات في أوربا.....
- ٣- وصول نسبة المتعلمين في مصر إلى ٦٥٪.....
- ٤- تركّز الدول ذات الدخل الاقتصادي المنخفض في إفريقيا.....
- ٥- زيادة عدد كبار السن في الدول المتقدمة.....

السؤال الثالث: اختر الإجابة الصحيحة مما بين الأقواس:

- ١- تصل نسبة قوة العمل في مجال الزراعة إلى ٨٠٪ في الدول.....
(الغنية - النامية - المتقدمة - الفقيرة)
- ٢- تعتبر دولة..... من الدول ذات الرعاية الطبية المنخفضة
(السعودية - مصر - فرنسا - أثيوبيا)
- ٣- تصل معدلات..... إلى ٨ فرد في الألف على المستوى العالمي.
(المواليد - الهجرة - الوفيات - الأمية)

السؤال الرابع: ما المقصود بالمفاهيم الجغرافية التالية:

- ١- الزيادة الطبيعية.....
- ٢- قوة العمل.....
- ٣- التركيب العمري.....

السؤال الخامس: ماذا يحدث إذا.....؟

- ١- زاد اهتمام دول إفريقيا بتعليم الإناث.....
- ٢- قامت إفريقيا بالاستفادة من ثرواتها المعدنية والزراعية في التصنيع.....

تدريبات عامة على الوحدة الثانية



- ١- اكتب كلمة (صح) أمام العبارات الصحيحة وكلمة (خطأ) أمام العبارات غير الصحيحة مع تصويب الخطأ.
 - (أ) تمثل السلالة الزنجية نصف سكان العالم. خطأ ٧٠٠٠ ()
 - (ب) تتركز السلالة المغولية في قارة أوروبا وآسيا. خطأ قارة آسيا ()
 - (ج) تتميز السلالة القوقازية بالبشرة الداكنة والشعر المجعد. خطأ للسلالة الزنجية ()
 - (د) يعد العرب من السلالة القوقازية. خطأ - العرب لسواهم من أصل واحد ()
 - (هـ) يوجد في آسيا أكبر دولتين في العالم من حيث عدد السكان وهما اليابان وروسيا. (X) (صحيح والصحيح)
 - (و) يتركز سكان الولايات المتحدة في عدة مناطق منها الساحل الشمالي الشرقي. (موجب) ()

٢- بم تفسر.....؟

- ١- انعدام تواجد شعب بالكامل من سلالة واحدة. **بيد انضام البروت واجتماع الخصائص الجينية الجينية**
- ٢- تركيز سكان العالم في السهول ذات التربة الجيدة. **مركزه المياه وخصوبته لزينة**
- ٣- قلة السكان في سهول نهر الأمازون بأمريكا الجنوبية. **بيد انتشار الطائفة لدهسوائيه حيث الجيند**
- ٤- قلة السكان في غرب ووسط أستراليا. **بيد سيطرة الظروف الصحراوية**
- ٥- تواجد أعلى معدلات الوفيات في الدول النامية. **حيث نقص عمرا الرعاية الصحية ونسبة البطالة**

٣- ما النتائج المترتبة على.....؟

- ١- زيادة عدد السكان في معظم دول آسيا. **نقص البصر - انخفاض مستوى المعيشة - انخفاض نصيب الفرد من الدخل**
- ٢- زيادة نسبة العاملين من السكان في دول غرب أوروبا. **وهوود الاحزاب غير الشرعية**
- ٣- تساوى معدلات المواليد مع معدلات الوفيات في قارة أوروبا. **دول غرب أوروبا نمو الدول ذات الدخل المنخفض**
- ٤- قارن بين قوة العمل في الدول المتقدمة والدول النامية. **بيد سيطرة عمال الكاديه**
- ٥- ما رأيك في الجهود القائمة بشأن تعليم المرأة في مصر. **تزايد نسبة العالميه في مجال الزراعة من اجل نمو**

تزايد نسبة العالميه في مجال الزراعة من اجل نمو
 قوة العمل حيث تراوح ما بين ٣٠٪ و ٦٠٪ كما في مصر وكندا
 ما بين ١٦٠٪ و ١٨٠٪ في السودان والهند
 الى ١٨٠٪ في السويد
 تقل نسبة العالميه في مجال الصحايه - كما انه هناك
 ازدياد لسير والتوجه لعمل برنا الكاديه الى جانب الزراعة
 مثل الصيد وقطع الخشب والرعي.



أولاً: الأنشطة

نشاط (١) فكر وحدد

- ١- لاحظ الخريطة التي أمامك ثم حدد عليها بالأسهم طريق رأس الرجاء الصالح.
- ب- ماذا كان يحدث إذا لم تتحول تجارة الشرق إلى طريق رأس الرجاء الصالح؟

لم يمضِ صدوقه المماليك ليرجاء...
من ليس ورجاءه عتق ربي

ثانياً: التدريبات

السؤال الأول:

اكتب كلمة (صح) أمام العبارات الصحيحة وكلمة (خطأ) أمام العبارات غير الصحيحة مع تصويب الخطأ:

- ١- تعرضت دولة المماليك لتدهور اقتصادي نتيجة لاكتشاف طريق رأس الرجاء الصالح. (✓)
- ٢- انتهى الصدام بين الدولتين الصفوية والعثمانية بهزيمة السلطان سليم الأول. خطأ استعمار
- ٣- تجنب السلطان العثماني الصدام مع الدول الأوروبية. (✓)
- ٤- هزمت جيوش طومان باي في موقعة مرج دابق. خطأ موقعة مرج دابق (١٥١٧)

السؤال الثاني:

أكمل العبارات التالية بكلمات مناسبة

- ١- ترواحت مدة بقاء البوالمجس... بين سنة ، ثلاث سنوات.
- ٢- عانى الفلاح المصري من ظلم بالمماليك يجمع الضرائب.
- ٣- اتجه السلطان سليم الأول مع بداية القرن السادس عشر في فتوحاته نحو البيروجير.



تدريبات وأنشطة الوحدة الثالثة



السؤال الثالث:
يم تفسر.....؟

- ١- هزيمة الجيوش المملوكية أمام الجيش العثماني.
عنت... البديع... والبراق... على... السلطان...
- ٢- اتجاه العثمانيون نحو مصر والشام.
السلطان... السلطان... السلطان...
- ٣- التدهور الزراعي في عصر الدولة العثمانية.
السلطان... السلطان... السلطان...

السؤال الرابع:
رتب الأحداث التاريخية التالية من القديم إلى الحديث على خط زمني:
موقعة الريديانية - موقعة مرج دابق - حركة علي بك الكبير في مصر.
(١) (٢) (٣)

السؤال الخامس:

فاز بين كل من (موقعة مرج دابق) ، (موقعة الريديانية) من حيث الأسباب - النتائج



موقفنا	مرج دابق ١٥١٦	الريديانية ١٥١٧
الاسباب	بإدارة سليم الأول بالأسطول على أماره ذي القادر المملوكية الوافدة على حدود سيده الدولة المملوكية والعثمانية - فتح سلطان العتوكي ضد مصر إلى الشام ودارت معركة مرج دابق	محاولة طومان باي ضد تقدم العثمانيين نحو مصر والذراع عنقها - والانتقام لالهزمه لها ليلته في موضع مرج دابق ١٥١٦
النتائج	جزء من المراتب واصبحت الشام وليد عثمانيه	انتصار العثمانيين ودرهولوم القاهرة - استراة دولة لها ليله واصبحت مصر وليد عثمانيه

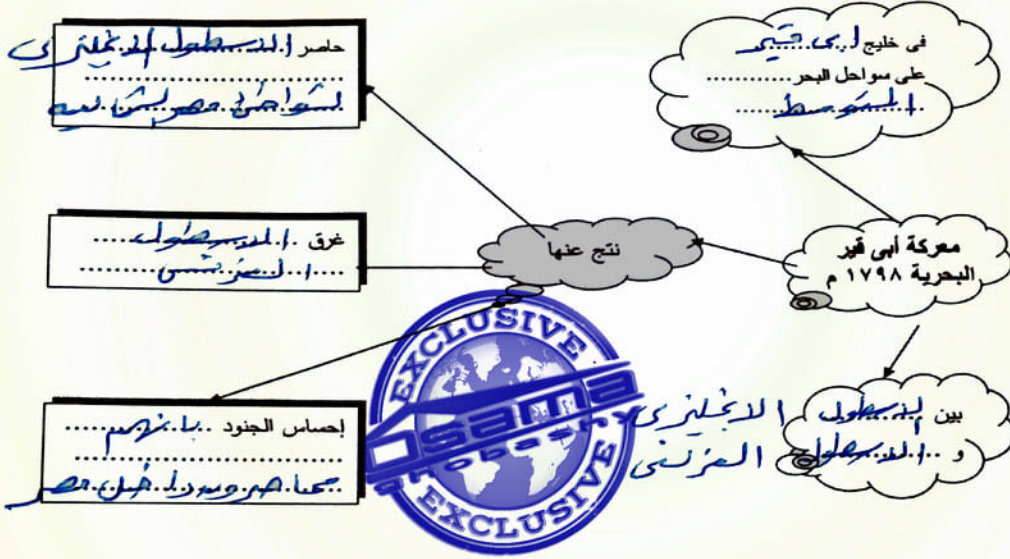
الدرس الثاني: الحملة الفرنسية على مصر
(١٧٩٨م - ١٨٠١م)



أولاً: الأنشطة

نشاط (١) لاحظ واستنتج:

أ- اقرأ خريطة موقعة أبي قير البحرية بالكتاب المدرسي ثم استكمل الشكل التالي:



نشاط (٢) فكر وصنف:

صنف نتائج الحملة الفرنسية على مصر في الجدول التالي:

نتائج اقتصادية واجتماعية	نتائج علمية وثقافية	نتائج استراتيجية وسياسية
تمتع المصريون بالثورة استاءت من نتائج الحملة	إشياء الجاهل العلمي ككتاب وجمهورية الكتاب	تحريرنا من الاحتلال الإنجليزي وغيره

مصر الحرة والدمار الذي
ثانياً: التدريبات
السؤال الأول:

اكتب كلمة (صح) أمام العبارات الصحيحة وكلمة (خطأ) أمام العبارات غير الصحيحة مع تصويب الخطأ:

- تعد الحملة الفرنسية على مصر والشام جزءاً من التنافس الاستعماري بين إنجلترا وفرنسا. (صح)
- اصطحب الجيش الفرنسي مجموعة من العلماء في مختلف العلوم والفنون لدراسة أحوال مصر. (صح)
- واجه أهالي مدينة الإسكندرية الحملة الفرنسية بزعامة السيد محمد كريم. (خطأ)
- استخدم المماليك المدافع والمعدات الحديثة في مواجهة القوات الفرنسية. (خطأ)



السؤال الثاني:



أكمل العبارات التالية بكلمات مناسبة مما بين الاقواس:

- 1- أباحت قوات الحملة الفرنسية من ميناء نابوليون سرا.
- 2- التقت قوات الحملة الفرنسية قوات المماليك بالقرب من في البحيرة في يوليو 1798 م.
- 3- أغرق الأسطول البريطاني بقيادة الأسطول الفرنسي في خليج عام 1798 م.

السؤال الثالث:

بم تفسر؟
 ليبى مرضا نابليون الصراخ الصادر على المصريين - قيام ثورة القاهرة الأولى فى أكتوبر 1798 م. - هدم الأوان بحارات

1- الحملة الفرنسية على مصر فى 1798 م. تفوق مرضا عند فتحه مصر بقيادة نابليون بونابرت - هدم الأوان بحارات

2- الحملة الفرنسية على الشام فى مارس 1799 م. تفوق مرضا عند فتحه مصر بقيادة نابليون بونابرت - هدم الأوان بحارات

3- التحالف البريطانى العثمانى عام 1799 م. تفوق مرضا عند فتحه مصر بقيادة نابليون بونابرت - هدم الأوان بحارات

4- الحملة الفرنسية على مصر فى 1798 م. تفوق مرضا عند فتحه مصر بقيادة نابليون بونابرت - هدم الأوان بحارات

السؤال الرابع: ما النتائج المترتبة على

1- ثورة القاهرة الأولى ضد الاحتلال الفرنسى. ما ليى على البحار والسماء - شروع ليوان الفرنسى

2- تحطيم الأسطول الفرنسى فى موقعة أبو قير البحرية. ما ليى على البحار والسماء - شروع ليوان الفرنسى

3- مذبحة يافا البشرية. مرضا لى - شعور المحبوسين بالحرمان من محاسن الحياة فى المعتقلات - ثقتهم فى قادتهم

السؤال الخامس: اختر الإجابة الصحيحة مما بين الاقواس:

1- وجهت الحملة الفرنسية أنظار الدول الأوربية إلى أهمية

2- ترتب على اكتشاف حجر رشيد

3- التعرف على التاريخ المصرى القديم - إعداد كتاب وصف مصر - تنظيم أمور الإدارة والحكم فى مصر - الربط بين البحرين الأحمر والمتوسط

4- قتل سليمان الحلبي القائد الفرنسى



ثانياً: التدريبات

السؤال الأول: أكمل العبارات التالية بكلمات مناسبة مما بين الأقواس:
(محمد على - الوالي - فريزر - نلسن - محمد بك الألفي - السلطان)

- ١- كان عام ١٨٠٥م أول مرة يعزل فيها الوالي في تاريخ مصر الحديثة من قبل الشعب.
- ٢- قرر زعماء الشعب من العلماء ونقباء الطوائف عزل الوالي العثماني وتولية محمد علي حكم مصر.
- ٣- سعت بريطانيا إلى تولية محمد علي حكم مصر.
- ٤- أرسلت إنجلترا حملة إلى مصر عام ١٨٠٧م بقيادة جيسس.

السؤال الثاني: رتب الأحداث التاريخية التالية من الأقدم إلى الأحدث:

- (٢) حملة فريزر - خروج الحملة الفرنسية من مصر - تولية محمد على - ثورة مارس ١٨٠٤م - نفي السيد عمر مكرم إلى مدينة دمياط. (٣)

السؤال الثالث:

الفتب كلمة (صح) أمام العبارات الصحيحة وكلمة (خطأ) أمام العبارات غير الصحيحة مع تصويب الخطأ:

- ١- شهدت مصر حالة من الاستقرار السياسي منذ خروج الحملة الفرنسية. خطأ (موضي) واحظرابا
- ٢- أصدر السلطان العثماني فرماناً بتعيين (محمد على) باشا والياً على مصر بعد خروج الفرنسيين. خطأ لم يسم محمد علي البردي ثم عمر ()
- ٣- جاهر السلطان العثماني بالإنضمام إلى العلماء والمشايخ. خطأ محمد علي ()
- ٤- أصدر السلطان العثماني فرماناً بعزل خورشيد باشا في يوليو ١٨٠٥م. صواب ()
- ٥- تخلص (محمد على) من المماليك بطردهم ونفيهم خارج البلاد. خطأ دبر لهم مناجحه العسكر

السؤال الرابع: بم تفسر.....؟ كانت ريزما احمر مصر - خلع محمد علي - تولية محمد علي للاقتا لحكم

- ١- حملة فريزر على مصر في مارس ١٨٠٧م. ازداد انفرا بالعلم دود ومها يه اور قايه الطبعه
- ٢- نفي (محمد على) السيد عمر مكرم إلى مدينة دمياط. ال كانت تتمثل في مركب بعد ما ادخله
- ٣- ثورة الشعب المصري في مارس ١٨٠٤م. بورها من تولية العلم وموضاه فوق عليه

يسبب مريض الضرب والراوات على الرياح

السؤال الخامس: حدد وجه نظرك:

- ١- نتائج اجتماع زعماء الشعب في دار المحكمة ١٣ مايو ١٨٠٥. يراه للطالب
- ٢- مذبحة القلعة ١٨١١م. للمفسر ومر تطره



ثانياً: التدريبات

السؤال الأول: صوب ما تحته خط :

- ١- نظم «محمد علي» الاقتصاد المصري على أساس نظام الالتزام. الاجتهاد
- ٢- أنشأ «خورشد باشا» القناطر على نهر النيل. محمد علي
- ٣- أنشأ «محمد علي» المطبعة الأميرية في القلعة. بولدر
- ٤- اهتم «البرديسي» بتأمين الطرق البرية والبحرية كما اهتم بإصلاح الموانئ. محمد علي

السؤال الثاني:

اكتب كلمة (صح) أمام العبارات الصحيحة وكلمة (خطأ) أمام العبارات غير الصحيحة مع تصويب الخطأ:

- ١- تضاعل نفوذ علماء الأزهر والقيادات الشعبية في عهد (محمد علي). صواب ()
- ٢- أنشأ (محمد علي) المدارس الحديثة ومنها الزراعة. صواب ()
- ٣- اهتم (محمد علي) بترجمة كتب العلوم المختلفة. صواب ()
- ٤- أنشأ (محمد علي) ترسانة بحرية في أسوان لصناعة السفن. خطأ في بولدر ()

السؤال الثالث: بم تفسر:

١- الاهتمام بالتنظيمات الإدارية في عصر (محمد علي).

..... لكن استغنى عن السيطرة السكاجية على شؤون البحار

٢- حروب (محمد علي) في الجزيرة العربية واليونان. كانت مبداً على طلب صد لسطارة العثماني لحد من
الاستعمار وعلى الحركة الوهابية التي ينادون بالدولة العثمانية عن الجزائر والخراسان

٣- حروب (محمد علي) في السودان والشام. لأن اليونان والذين قالوا بالاستقلال
كانت مبداً على ترويضه محمد علي

٤- تدخل الدول الأوروبية أمام ازدياد نفوذ (محمد علي). بعد لردولة العثمانيه والاستقلال بحبر
السيف

..... لأن الدول الأوروبية يمكن منظرها على التوازن الدولي
لنيج استعماراً على لسطارة العثماني وازدياد نفوذه

يسبب ادراكه الدول الأوروبية انه محمد علي محمد علي محمد علي محمد علي محمد علي
على استوار دولته في استيحاء استيحاء استيحاء استيحاء استيحاء
عازر بارتنو

تدريبات وأنشطة الوحدة الثالثة

تدريبات عامة على الوحدة الثالثة

السؤال الأول: صوب ما تحته خط :



www.Cryp2Day.com
موقع مذكرات جاهزة للطباعة

١- قسم محمد علي مصر إلى سبع مراكز. سبع صيريات ا سبع رواو سبع

٢- اصطحب كليب مجموعة من العلماء لدراسة أحوال مصر في جميع النواحي. تا بليو سبع

٣- أدرك «محمد علي» قوة الماليك في توليه الحكم. الزمام السبع

٤- أنشأ «محمد علي» مدرسة عسكرية في الأسكندرية. ا سوات

السؤال الثاني: بم تفسر

١- أصبحت مصر ولاية عثمانية عام ١٥١٧م. نيسب حزب لها لديه من عبدالبراشيد ورحول

٢- الحملة الفرنسية على مصر بفرض شرك عمر عقدا سبع أربابا نشا مسعود شرك
الممالكة القاهرة واستباح دولة لها لديه

٣- حملة فريزر مارس ١٨٠٧م. من السود تكوند عاصر بها مصر - قطع الطريق بين البحر المتوسط والبحر الهندي

٤- تطبيق نظام الاحتكار في عصر (محمد علي). من الهند

٥- عقد معاهدة لندن ١٨٤٠م. في سوء التجارة لرحول توليه محمد علي لنفس
احسن لها لديه من عبدالبراشيد ورحول

السؤال الثالث:

اكتب كلمة (صح) أمام العبارات الصحيحة وكلمة (خطأ) أمام العبارات غير الصحيحة مع تصويب الخطأ:

١- تعرضت دولة المماليك لأزمات مالية وتدهور اقتصادي. حسب الخطأ

٢- استطاعت القوات الفرنسية إخضاع أهالي الصعيد. خطأ - لم تستطع

٣- أرسل نابليون بونابرت قواته إلى الشام ليدمر الأسطول الأسباني. خطأ - كسب للمماليك

٤- أقدم «محمد علي» على خلع السيد عمر مكرم من نقابة الأشراف. حسب الخطأ

٥- أثرت سياسة (محمد علي) الاقتصادية في تشكيل البناء الاجتماعي. حسب الخطأ

السؤال الرابع: رتب الأحداث التاريخية التالية من الأقدم إلى الأحدث: (٥)

- حروب (محمد علي) في اليونان. - حروب (محمد علي) في الجزيرة العربية. - حملة فريزر على مصر. (٦)

- الحملة الفرنسية على الشام (٣) - ثورة القاهرة الأولى. (٤) - موقعة الريدانية. (٥)

السؤال الخامس: ما النتائج التي ترقبت علي؟ أ عقدت التواك لفرنسية الثورة وتغير
من بولدو الصحراي و مصادرة الاصول

١- ثورة القاهرة الثانية ١٨٠٠م. من بولدو الصحراي و مصادرة الاصول

٢- حاجة «محمد علي» إلى الموظفين - احتمام محمد علي بالتعلم والتقانة

٣- تطاحن المماليك المستمر فيما بينهم - احتمام محمد علي بالتعلم والتقانة

السؤال السادس: ماذا كان يحدث إذا؟ ا عام لعماسك

١- هُزمت القوات العثمانية في موقعة مرج دابق. لم يصح الشام ولادته عنا الله

٢- لم يتم اكتشاف حجر رشيد. لم يتم اكتشاف حجر رشيد

السؤال السابع: ما هي النتائج التي ترقبت علي؟ ا عام لعماسك



الوحدة الرابعة

مصر والزحف الاستعماري ومحاولات التحرر الوطني
الدرس الأول

خلفاء «محمد علي» وازدياد النفوذ الأجنبي

نشاط «أ» فكر وقارن:

أ- أكمل الجدول التالي:

عقد امتياز قناة السويس الثاني	عقد امتياز قناة السويس الأولى	تاريخ صدوره
سنة ١٨٥٦	سنة ١٨٥٤	
إنشاء قناة السويس من طرف محمد علي الخديوي	منحه امتياز إنشاء شركة عامة لإنشاء قناة السويس من طرف فرنسا	أهم نصوصه

سنة ١٨٥٦
إنشاء قناة السويس من طرف محمد علي الخديوي
سنة ١٨٥٤
منحه امتياز إنشاء شركة عامة لإنشاء قناة السويس من طرف فرنسا



ثانياً: التدريبات

السؤال الأول: أكمل العبارات الآتية بكلمات مناسبة مما بين الأقواس:
(البنوك - ابراهيم - عباس الأول - سعيد - توفيق - اسماعيل - الأراضي)

- ١- أغلقت معظم المدارس في عهد محمد علي الأول.
- ٢- تنازلت الحكومة المصرية عن الديار المطلوبة لإنشاء القناة المالحة وترعة الإسماعيلية.
- ٣- منح ديفيد ديليبس امتياز تأسيس شركة عامة لحفر قناة السويس.
- ٤- تم في عهد الخديو إسماعيل تعيين مراقبين أجبيين أحدهما بريطاني لإيرادات والآخر فرنسي للمصروفات.



السؤال الثاني: بم تفسر؟

١- توقف حركة النهضة في عهد عباس.

١- انحصرت معظم الممارسات المتعلقة بمفهوم الديمقراطية وتختلف حجم الجبين وعملت بحال الديمقراطية للدين

٢- ازدياد التدخل الأجنبي في عهد إسماعيل.

١- عجز الخديو إسماعيل عن مواجهة التدخل الأجنبي والدولة الضعيفة لا تستطيع الاحتفاظ بالسيادة

٣- عزل الخديو إسماعيل وتولية ابنه الخديو توفيق. سبب قيام إسماعيل بالانقلاب على الخديو إسماعيل

السؤال الثالث: ما النتائج المترتبة على؟

١- الإمتيازات الأجنبية.

١- إنشاء المحاكم القنصلية.

٢- إنشاء المحاكم القنصلية.

٣- إنشاء المحاكم المختلطة.

١- إضيق الميزانية العامة للدولة وتراجع دورها في التنمية الاقتصادية

الى الجانب

السؤال الرابع:

يعتبر عصر إسماعيل من أزهى العصور وأكثرها تقدماً وعمراناً في تاريخ مصر، على ضوء هذه

العبارة وضح ما يلي: إنشاء قناة السويس - حضرة محمد علي باشا - عصر محمد علي باشا - عصر محمد علي باشا

١- أهم شروط الإمتياز الثاني لحفر قناة السويس عام ١٨٥٦ م.

٢- مظاهر النهضة والإصلاح في عهد إسماعيل.

٣- أسباب الإخفاق في عهد إسماعيل.

السؤال الخامس: واصل الإكمال واكتب الإجابة

اكتب كلمة (صح) أمام العبارات الصحيحة وكلمة (خطأ) أمام العبارات غير الصحيحة مع تصويب الخطأ:

١- تولى سعيد باشا حكم مصر في الفترة من ١٨٤٨-١٨٥٤ م. خطأ عكس الأدوار ()

٢- عقد سعيد باشا أول قرض مع أحد البنوك البريطانية عام ١٨٦٢ م. صواب ()

٣- أصدر الخديو إسماعيل مرسوماً بإنشاء صندوق الدين ١٨٧٦ م. صواب ()

السؤال الأول :

اكتب كلمة (صح) أمام العبارات الصحيحة وكلمة (خطأ) أمام العبارات غير الصحيحة مع تصويب الخطأ:

١- أدت سياسة التدخل الأجنبي في الشئون المالية للبلاد إلى إثارة مشاعر الكراهية ضد الأجانب. **صواب**

٢- تنسب الثورة العرابية إلى الزعيم سعد زغلول باشا. **خطأ - احمد عرابي**

٣- أدى ازدياد سوء أحوال المصريين إلى نشوب الثورة العرابية. **صواب**

٤- أعاد الخديو توفيق العمل باللائحة الأساسية لمجلس النواب. **خطأ (مرفق)**

٥- أدرك الخديو توفيق منذ بداية حكمه ازدياد قوة الانجليز في مصر. **صواب**

٦- أدت الأزمة المالية في عصر الخديو توفيق إلى سوء الأحوال الاجتماعية. **خطأ (مرفق)**

ازدياد التدخل الأجنبي عن سؤره

السؤال الثاني: بـم تفسر:

١- قيام الثورة العرابية.

٢- المذكرة المشتركة الأولى في يناير ١٨٨٢م.

٣- المذكرة المشتركة الثانية في مايو ١٨٨٢م.

٤- فشل الثورة العرابية.

السؤال الثالث: وضح ما يأتي:

١- المراحل التي مرت بها الثورة العرابية.

٢- مطالب الأمة التي تقدم بها أحمد عرابي للخديو توفيق في ٩ سبتمبر ١٨٨١م.

عدم كفاية القوة العسكرية سيرة خواء لإحتلال القوات المصرية - تواطؤ إدارة شركه قناة السويس - إهمال النظام العثماني مستورا باعتماد مصداق صراحي عدم اطلاقه صيانه الثورة الى احمد الخديو لقبية - صواب بعض

استيلاء جيمس باريان على القبة

تشكيل مجلس نواب على لسان ابراهيم

زياره محمد حليس الى ١٨ القاهية

المؤثرات الفكرية الغربية التي ارتت الى نمو الوعي القومي
سوء الأحوال الاقتصادية - احتياط رعماد مرفق
ناقض الحداثة المصرية
رغبة بريطانيا ومخزنا في تسويد مركز الخديو توفيق في مواجهة الحركة الوطنية
رغبة بريطانيا ومخزنا في مساندة الخديو توفيق امام العسكرين
مظاهرة ٤ ديسمبر ١٨٨٢م
وزارة شريف - لمزكرة بشركة اداوي والناييه
صوامر لصناد الشركه
الاحمد والبريطاني
وفشل الثورة



العناصر الخديو والانجليز
الظروف الدولية عام ١٨٨٢م
ككن في صياح الحركة الوطنية



ثانياً : التدريبات

السؤال الأول : صوب العبارات الآتية بعد تصويب ما بها من أخطاء: بنيوي صمم امرار الاسلحة وحقق لقطا
١- قررت سلطات الاحتلال البريطاني إعادة تكوين الجيش المصري مزوداً بأحدث الأسلحة.

٢- فرضت سلطات الاحتلال البريطاني سياسة اقتصاد تهدف إلى النهوض بالمجتمع المصري. هذه هي السياسة الاقتصادية
٣- عقب الاحتلال البريطاني لمصر، أصبحت السلطة الفعلية للخديو. للعهد البريطاني

السؤال الثاني : بم تفسر...؟ عملت بريطانيا على مرهه سياسه اقتصاديه تحرم المصالح البريطانيه من التوسع

١- تغيير السياسة الاقتصادية في مصر بعد الاحتلال البريطاني. من زراعه القطنه حتى ربه للمصانع
٢- اتصال مصطفى كامل بالقوى الدولية بم لكي يعرفه لمرأه العالم
٣- إنشاء مدارس الشعب الليلية. لتعليم العمال ولتعزيز صحتهم

السؤال الثالث : ما النتائج التي ترتبت على؟ التي ورثها من عصره من الاستقلال

١- تنديد الزعيم مصطفى كامل بحادثة دنشواي ١٩٠٦ م. استقاله للور كرومر

٢- اهتمام مصطفى كامل بالتعليم. الدموه الى انشاء الجامعة المصريه وليس التفت عام ١٩٠٨ (جامعة القاهرة حالياً)



ثانيا : التدريبات

السؤال الأول :

اكتب كلمة (صح) أمام العبارات الصحيحة وكلمة (خطأ) أمام العبارات غير الصحيحة مع تصويب الخطأ:

- ١- اعترفت بريطانيا بمصر دولة مستقلة بعد تصريح ٢٨ فبراير ١٩٢٢ م. **جواب** ()
- ٢- أكد دستور ١٩٢٣ م أن الأمة هي مصدر السلطات. **جواب** ()
- ٣- شكل الزعيم سعد زغلول أول وزارة برلمانية في يناير ١٩٢٤ م. **جواب** ()
- ٤- أعطى دستور ١٩٣٠ م للشعب المصري المزيد من الرقابة على الحكومة والملك. **خطأ** () *عطي الملك لقب*
- ٥- وقعت الحكومة المصرية برئاسة مصطفى النحاس باشا معاهدة ١٩٣٦ م. **جواب** () *سرياً باسم السلطان واهدر سلطان*
- ٦- فرضت فرنسا الحماية على مصر أثناء الحرب العالمية الأولى. **خطأ** - **الإنجلترا** ()
- ٧- شارك في أحداث ثورة ١٩١٩ م جميع فئات الشعب المصري. **جواب** ()
- ٨- تألف الوفد المصري برئاسة محمد فريد لعرض المطالب على مؤتمر الصلح. **خطأ** (**سعد زغلول**)

السؤال الثاني : بم تفسر...؟ الاجراءات لصيغة التي اتخذتها سلطات الاحتلال أثناء الحرب العالمية الأولى

- ١- أسباب قيام ثورة ١٩١٩ م. **الجواب** : *الاحتلال البريطاني واهتمامه بمصر كمنطقة سياحية واهتمامه بمصر كمنطقة سياحية*
- ٢- إلغاء معاهدة ١٩٣٦ م. **الجواب** : *الاعراض السياسية والاقتصادية التي تسببت في توقيع معاهدة ١٩٣٦ م*
- ٣- يوم ٢٥ يناير من كل عام عيداً للشرطة. **الجواب** : *أزديا دليمن كنجيشي في مصر في فبراير ١٩٤٤ - حمل مصر*

السؤال الثالث :

قارن بين تصريح ٢٨ فبراير ١٩٢٢ م ومعاهدة ١٩٣٦ م من حيث : (البندود والنتائج)

عود عهد الشرطة ورضخ السلم لقوات الاحتلال واستطاعوا كسرهم

السؤال الرابع : ما رأيك في؟

- ١- تدخل بريطانيا لإسقاط الوزارات المصرية.

تدخل سفير في مؤتمر الدارجلية

- ٢- إلغاء معاهدة ١٩٣٦ م.





تدريبات عامة على الوحدة الرابعة

السؤال الأول:

اكتب كلمة (صح) أمام العبارات الصحيحة وكلمة (خطأ) أمام العبارات غير الصحيحة مع تصويب الخطأ:

- ١- أصدر سعيد باشا اللائحة السعيدية في أغسطس ١٨٥٨ م. **حساب** ()
- ٢- أنشأ الخديو إسماعيل مجلس شورى النواب عام ١٨٦٦ م. **حساب** ()
- ٣- تحرك رجال الجيش إلى قصر النيل وأخرجوا أحمد عرابي وزميليه بالقوة في منتصف يناير سنة ١٨٨١ م. **حساب** ()
- ٤- أدى كفاح الزعيم محمد فريد إلى استقالة اللورد كرومر من منصبه كمعتمد بريطاني في مصر **خطأ - مصطفى كامل** ()
- ٥- تألف الوفد المصري عقب انتهاء الحرب العالمية الثانية ١٩٤٥ م. **خطأ** ()

السؤال الثاني: بم تفسر؟

- ١- كانت شروط امتياز حفر قناة السويس مجحفة بمصر. **الحرب العالمية الأولى**
خطأ - سرقة قناة السويس - من سعد زغلول على مرور السفن
اللائحة السعيدية - من سعد زغلول على مرور السفن
- ٢- نفى سعد زغلول ورفقائه إلى جزيرة مالطة في مارس ١٩١٩ م. **صد الدرباع**
مياه لوضع المصري في دول ليبيا - ليس الحياستة في مصر - شفقت السلطنة لإجبارك مطا البانوفيل

السؤال الثالث: رتب الأحداث التاريخية التالية من القديم إلى الحديث:

- ١ اشتراك المرأة المصرية في المظاهرات - الاتفاق الودي بين فرنسا وإنجلترا - حادثة دنشواي -
- ٢ الاحتلال البريطاني لمصر - الثورة العرابية - افتتاح قناة السويس للملاحة الدولية

السؤال الرابع: وضح ما يلي:

- ١- بنود تصريح ٢٨ فبراير ١٩٢٢ م. على مصر - **الدخول في عهد دول مصقله ذات سيادة** - انشاء المحاكم الشرعية **البريطانية**
ب. ربح تمسكاً - بما سيد لو اصدريه البروطانية - الدرباع - من مصر صفراء - الحناد
- ٢- شروط الامتياز الثاني لحفر قناة السويس. **حماية المصالح الاقتصادية**
استقرار اوضاع السودان على ما كانت عليه
وقبال تقاطع
- ٣- بنود معاهدة ١٩٣٦ م. **النظام المصري**
صحة مصر مواثيقها وحردها اهدانا تحت نظرنا مني حواله لقيام حرب يترى
هذه المعاهدة لمدة ٥٠ عامًا - استقرار اذاره لوزار
حرب اقطاع
صيا ١٨٩٤